



MUNICÍPIO DE CATAGUASES

CONCURSO PÚBLICO

Edital 1/2023

CADERNO DE PROVA (TARDE)

FONOAUDIÓLOGO

LEIA ATENTAMENTE AS SEGUINTE INSTRUÇÕES:

1. Este caderno de prova contém **40 (quarenta) questões** objetivas, de 1 a 40 e distribuídas da seguinte forma:
 - 1 a 10 - Língua Portuguesa;
 - 11 a 20 - Raciocínio Lógico e Matemático;
 - 21 a 30 - Noções de Administração Pública;
 - 31 a 40 - Conhecimentos Específicos.
2. Confira se a quantidade e a ordem das questões deste caderno de prova estão de acordo com as instruções anteriores. Caso o caderno esteja incompleto, tenha defeito ou apresente qualquer divergência, comunique imediatamente ao fiscal de sala para que ele tome as providências cabíveis.
3. Para cada uma das questões objetivas, são apresentadas **4 (quatro)** opções de resposta. Apenas **1 (uma)** resposta responde corretamente à questão.
4. O tempo disponível para esta prova é de **3 (três) horas**.
5. Reserve tempo suficiente para marcar a sua folha de respostas.
6. Os rascunhos e as marcações assinaladas neste caderno **não** serão considerados na avaliação.
7. O candidato somente poderá se retirar do local da aplicação das provas após **60 (sessenta) minutos** de seu início.
8. Quando terminar, chame o fiscal de sala, entregue este caderno de prova e a folha de respostas.
9. O candidato somente poderá retirar-se do local da aplicação levando consigo o caderno de provas a partir dos últimos **30 (trinta) minutos** para o término da prova.
10. Boa prova!

LÍNGUA PORTUGUESA



Leia atentamente o texto a seguir e responda às questões de 1 a 10.

Populações negra e indígena têm menor acesso à rede de esgoto nos maiores municípios do país

Pessoas negras e indígenas são os grupos sociais que menos têm acesso ao saneamento básico no Brasil, segundo dados do Censo do IBGE (Instituto Brasileiro de Geografia e Estatística) divulgado nesta sexta-feira (23).

5 A pesquisa, realizada em 2022, levou em conta a proporção dos moradores em domicílios particulares permanentes com esgotamento sanitário por rede coletora, pluvial ou fossa séptica.

10 Nacionalmente, a maior proporção de atendimento por serviços públicos de saneamento ocorre para as pessoas amarelas, seguidas das brancas.

Considerando as 18 cidades mais populosas do país, pessoas brancas ou amarelas também são as que mais têm acesso a esse tipo de política pública.

15 O destaque negativo ocorre na cidade de Maceió. A capital alagoana registra os piores índices para quase todos os grupos sociais, exceto indígenas. No município, entre os amarelos, 40,4% das pessoas não têm acesso ao saneamento; entre os pretos, o número é de 35,9%; pardos são 34,9%; e brancos são 28%.

20 Já em relação aos indígenas, a cidade com os piores índices é Manaus. Na capital do Amazonas, 39,9% desse grupo não tem acesso ao saneamento.

25 Por outro lado, o melhor atendimento em saneamento básico, para todos os grupos sociais, ocorre na cidade de Curitiba. No município, 99,6% dos amarelos são atendidos pela política. Entre a população branca na capital paranaense, 98,9%; pretos 97,9%; pardos 97,7%; e indígenas 97,2%.

30 Dos 18 municípios analisados, em 17 deles as populações negra (que inclui pretos e pardos) e indígena são o grupo social com menos acesso às políticas de saneamento.

35 "Isso não é algo novo. O que está sendo colocado agora em números é, na verdade, o retrato de um processo histórico", afirma Victor de Jesus, um dos coordenadores do Núcleo Capixaba de Estudos da Experiência Humana em Meio Urbano.

40 Segundo ele, esse é um processo antigo. Desde o século 19, quando passou a ser desenvolvido o planejamento urbano das cidades brasileiras, a população negra não foi integrada aos espaços.

45 "Essa população não participa do processo decisório, não constrói políticas públicas e não é reconhecida como sujeito de direito. Com isso, o setor institui uma política capitalista, que vê saneamento como mercadoria e, portanto, só quem pode ter acesso é quem pode pagar, o que exclui mais uma vez."

50 Em 2022, o Brasil ainda registrava o equivalente a 49 milhões de habitantes sem atendimento adequado de esgoto e 4,8 milhões de pessoas sem água encanada, apesar do crescimento desses serviços nas últimas décadas.

55 No caso do esgotamento sanitário da população em geral, 62,5% da população vivia em domicílios conectados à rede de coleta em 2022. Outros 13,2% estavam em

endereços que usavam fossa séptica ou fossa-filtro como solução individual.

60 De acordo com o IBGE, as duas categorias são consideradas adequadas pelo Plansab (Plano Nacional de Saneamento Básico).

65 Assim, a população atendida por rede de esgoto ou fossa séptica chegou a 75,7%, na soma, em 2022 – o equivalente a 153,1 milhões de pessoas. O percentual subiu em relação aos recenseamentos anteriores – era de 64,5% em 2010 e de 59,2% em 2000.

(Tayguara Ribeiro.
<https://www1.folha.uol.com.br/cotidiano/2024/02/populacoes-negra-e-indigena-tem-menor-acesso-a-rede-de-egoto-nos-maiores-municipios-do-pais.shtml>. 23.fev.2024)

Questão 1

Em relação às ideias do texto, analise as afirmativas a seguir:

- Os dados do censo são reveladores em relação a uma realidade não percebida diariamente.
- Os dados do saneamento no Brasil denotam melhora nas últimas décadas, mas ainda não traduzem igualdade e equivalência em todas as regiões do país.
- A questão histórica em relação à população negra a coloca em condição de ter dificuldade de ocupação dos espaços de formulação de políticas públicas.

Assinale

- se apenas as afirmativas I e II estiverem corretas.
- se apenas as afirmativas I e III estiverem corretas.
- se apenas as afirmativas II e III estiverem corretas.
- se todas as afirmativas estiverem corretas.

Questão 2

Pessoas negras e indígenas são os grupos sociais que menos têm acesso ao saneamento básico no Brasil, segundo dados do Censo do IBGE (Instituto Brasileiro de Geografia e Estatística) divulgado nesta sexta-feira (23). (L.1-4)

O pronome sublinhado no período acima desempenha no texto papel

- anafórico.
- catafórico.
- dêitico.
- endofórico.

Questão 3

O texto apresenta tipologia eminentemente

- descritiva.
- dissertativa.
- narrativa.
- argumentativa.

Questão 4

Dos 18 municípios analisados, em 17 deles as populações negra (que inclui pretos e pardos) e indígena são o grupo social com menos acesso às políticas de saneamento. (L.30-33)

O segmento sublinhado no período acima aponta uma

- enumeração.
- explicitação.
- exemplificação.
- explicação.

Questão 5

Com isso, o setor institui uma política capitalista, que vê saneamento como mercadoria e, portanto, só quem pode ter acesso é quem pode pagar, o que exclui mais uma vez. (L.45-48)

Assinale a alternativa com pontuação igualmente correta para o período acima.

- (A) Com isso, o setor institui uma política capitalista, que vê saneamento como mercadoria, e, portanto, só quem pode ter acesso é quem pode pagar, o que exclui mais uma vez.
- (B) Com isso, o setor institui uma política capitalista, que vê saneamento como mercadoria e, portanto, só quem pode ter acesso, é quem pode pagar, o que exclui mais uma vez.
- (C) Com isso, o setor institui uma política capitalista, que vê saneamento como mercadoria, e portanto, só quem pode ter acesso é quem pode pagar, o que exclui mais uma vez.
- (D) Com isso, o setor institui uma política capitalista, que vê saneamento, como mercadoria, e, portanto só quem pode ter acesso é quem pode pagar, o que exclui mais uma vez.

Questão 6

No caso do esgotamento sanitário da população em geral, 62,5% da população vivia em domicílios conectados à rede de coleta em 2022. Outros 13,2% estavam em endereços que usavam fossa séptica ou fossa-filtro como solução individual. (L.53-57)

No período acima, as ocorrências de concordância verbal foram realizadas corretamente, embora seguindo parâmetros diferentes.

Em relação ao segmento sublinhado, assinale a alternativa em que a alteração tenha sido feita observando igualmente a norma culta.

- (A) 1,32% estavam em endereços...
- (B) 0,97% estavam em endereços...
- (C) 1,94% estava em endereços...
- (D) 11% estava em endereços...

Questão 7

Assinale a alternativa em que a palavra indicada tenha sido acentuada seguindo regra distinta da das demais.

- (A) país (L.12)
- (B) também (L.13)
- (C) Maceió (L.15)
- (D) está (L.34)

Questão 8

Assinale a alternativa em que a palavra desempenhe no texto papel adjetivo.

- (A) fossa (L.8)
- (B) mais (L.12)
- (C) amarelos (L.18)
- (D) duas (L.58)

Questão 9

Desde o século 19, quando passou a ser desenvolvido o planejamento urbano das cidades brasileiras, a população negra não foi integrada aos espaços. (L.39-42)

O termo sublinhado no período acima exerce função sintática de

- (A) objeto direto.
- (B) sujeito.
- (C) complemento nominal.
- (D) adjunto adnominal.

Questão 10

Considerando as 18 cidades mais populosas do país, pessoas brancas ou amarelas também são as que mais têm acesso a esse tipo de política pública. (L.12-14)

No período acima há

- (A) dois artigos e duas preposições.
- (B) dois artigos e três preposições.
- (C) três artigos e duas preposições.
- (D) três artigos e três preposições.

RACIOCÍNIO LÓGICO E MATEMÁTICO

Questão 11

Um candidato fez a inscrição para um concurso no dia 4 de março, que caiu numa segunda-feira. Sabe-se que o resultado desse concurso será publicado no dia 5 de junho. O resultado vai ser publicado em uma

- (A) segunda-feira.
- (B) terça-feira.
- (C) quarta-feira.
- (D) sexta-feira.

Questão 12

A sequência numérica a seguir segue um padrão:

30, 33, 66, 69, 138, 141, ...

E correto concluir que a soma entre o oitavo e nono termo dessa sequência é igual a

- (A) 567.
- (B) 789.
- (C) 855.
- (D) 1143.

Questão 13

Adriana, Bianca e Carla são funcionários de uma mesma empresa, que possui filiais em Sergipe, Minas Gerais e Rio de Janeiro, mas atuam em setores diferentes. Cada uma delas atua em uma filial em um estado também diferente. Uma atua no setor de vendas, outra no setor financeiro e a terceira no setor administrativo, não necessariamente nessa ordem. Sabe-se que:

Carla atua no setor administrativo;

Adriana não trabalha no setor financeiro nem atua na filial do Rio de Janeiro;

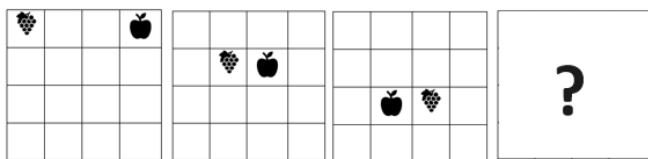
quem atua no setor financeiro está trabalhando em Sergipe.

Com base nessas informações, é correto afirmar que quem trabalha no Rio de Janeiro e quem trabalha com vendas são, respectivamente,

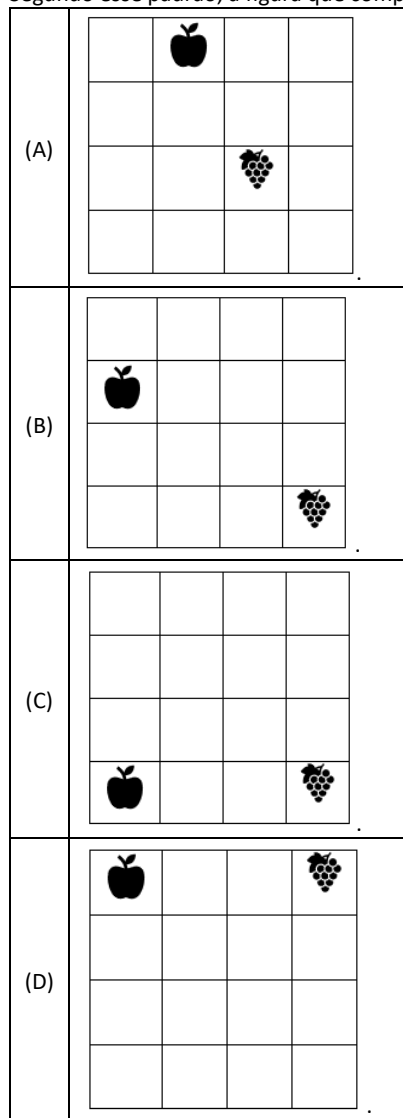
- (A) Bianca e Adriana.
- (B) Adriana e Carla.
- (C) Carla e Bianca.
- (D) Carla e Adriana

Questão 14

A seguir temos uma sequência de figuras que obedece a um determinado padrão.



Segundo esse padrão, a figura que completa a sequência é



Questão 15

Considere as seguintes afirmações como verdadeiras:

- Bruno é professor ou advogado.
- Se Bruno é advogado, então Ana gosta dele.
- Ana não gosta de Bruno.

Com base nessas afirmações, é correto concluir que

- (A) Bruno é professor.
- (B) Ana é advogada.
- (C) Bruno é advogado.
- (D) Ana não gosta de professores.

Questão 16

Uma empresa aumentou todos os seus produtos em 10% no mês passado. Neste mês vai precisar aumentar novamente em 10% cada um deles. Sabe-se que, após os dois aumentos, um dos seus produtos passou a custar R\$ 181,50. O valor desse produto, em reais, antes dos dois aumentos, era igual a

- (A) R\$ 140,00.
- (B) R\$ 150,00.
- (C) R\$ 155,00.
- (D) R\$ 165,00

Questão 17

O Senhor João deixou uma herança de R\$ 60 000,00 que deve ser dividida entre três filhos, Bruna, Carlos e Rodrigo, de forma proporcional às suas idades. Bruna tem 24 anos; Carlos, 30 anos; e Rodrigo, 18 anos.

A quantia, em reais, da herança destinada a Rodrigo é igual a

- (A) R\$ 11 250,00.
- (B) R\$ 15 000,00
- (C) R\$ 18 750,00
- (D) R\$ 20 000,00

Questão 18

Uma empresa fabrica 200 peças em 10 dias com 4 máquinas. Se eles adicionarem mais 2 máquinas, em quantos dias eles poderão fabricar 600 peças?

- (A) 20.
- (B) 16.
- (C) 15.
- (D) 12.

Questão 19

Em uma comemoração entre amigos em um restaurante, metade dos presentes bebeu refrigerante, um terço bebeu suco de fruta e 6 beberam água. Sabe-se que todos beberam e ninguém bebeu duas bebidas diferentes.

Com base nessas informações, é correto inferir que a quantidade de pessoas que estiveram na comemoração é igual a

- (A) 18.
- (B) 24.
- (C) 30.
- (D) 36.

Questão 20

Heitor ajuda sua mãe colocando brigadeiros e bolinhos em caixa. Sabe-se que uma caixa pode ser preenchida com 50 bolinhos ou com 400 brigadeiros. Se uma caixa já tem 32 bolinhos, quantos brigadeiros, no máximo, ela pode conter?

- (A) 72.
- (B) 96.
- (C) 120.
- (D) 144.

NOÇÕES DE ADMINISTRAÇÃO PÚBLICA

Questão 21

Quando a Administração transfere suas funções para outras pessoas jurídicas, ocorre

- (A) concentração.
- (B) desconcentração.
- (C) centralização.
- (D) descentralização.

Questão 22

Há uma relação hierárquica entre os entes, de coordenação e subordinação. Isso ocorre na

- (A) concentração.
- (B) desconcentração.
- (C) centralização.
- (D) descentralização.

Questão 23

Quando ocorre a transferência da própria titularidade do serviço da pessoa política para a pessoa administrativa, ocorre

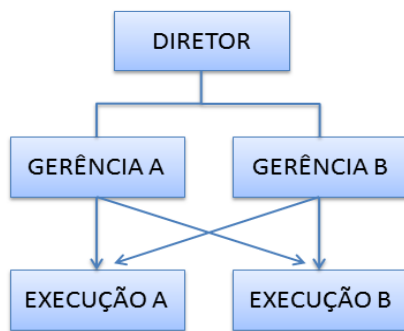
- (A) outorga, que é criada por lei.
- (B) outorga, que é concedida por ato administrativo.
- (C) delegação, que é concedida mediante previsão constitucional.
- (D) delegação, que é criada mediante autorização judicial.

Questão 24

Não é órgão da Administração Direta

- (A) Câmara dos Deputados
- (B) Ministério da Saúde
- (C) Supremo Tribunal Federal
- (D) INSS

Questão 25



A imagem acima representa uma estrutura

- (A) funcional.
- (B) linear.
- (C) linha-staff.
- (D) matricial.

Questão 26

Nas alternativas a seguir estão listados direitos e deveres do cidadão, à exceção de uma. Assinale-a.

- (A) estabelecer seus limites de vizinhança
- (B) cumprir leis
- (C) prover sustento aos filhos
- (D) votar

Questão 27

É uma estrutura muito utilizada por organizações de grande porte com produção que envolva grande concentração de diferentes recursos (produtos e pessoas) por um longo período. Há necessidade de tecnologia sofisticada, que não dependa de outras atividades para o seu desempenho. É o tipo de departamentalização orientado para resultados.

Trata-se de departamentalização

- (A) funcional.
- (B) por quantidade.
- (C) por projetos.
- (D) por cliente.

Questão 28

A Gestão da Qualidade Total (GQT) possibilita a construção da reorientação gerencial das organizações. Tem como pontos básicos os elementos listados nas alternativas a seguir, à exceção de uma. Assinale-a.

- (A) foco no cliente
- (B) trabalho em equipe permeando toda a organização
- (C) decisões baseadas em intuições
- (D) busca constante da solução de problemas e da diminuição de erros

Questão 29

Em relação à gestão da qualidade, analise as afirmativas a seguir:

- I. Gestão da Qualidade são conjuntos de ações dirigidas a fim de se obter características do produto ou serviço com capacidade de satisfazer plenamente as necessidades e expectativas do cliente/consumidor, atingindo o que se conhece como qualidade.
- II. Gestão da Qualidade são atividades coordenadas para dirigir e controlar uma organização com relação à qualidade.
- III. O conceito de Gestão da Qualidade interpreta a qualidade como associada a certas manifestações físicas mensuráveis no produto ou pelo menos detectáveis sensorialmente, todas elas capazes de atestar algum efeito benéfico.

Assinale

- (A) se apenas as afirmativas I e II estiverem corretas.
- (B) se apenas as afirmativas I e III estiverem corretas.
- (C) se apenas as afirmativas II e III estiverem corretas.
- (D) se todas as afirmativas estiverem corretas.

Questão 30

A respeito do servidor público, analise as afirmativas a seguir:

- I. O servidor público, qualquer que seja sua formação ou função desempenhada, é um importante agente na construção social.
- II. Ao contrário das pessoas que desempenham cargos políticos, cargos de confiança ou que são servidores temporários, o servidor público permanece desempenhando sua função, anos e anos a fundo, tornando-se profundo conhecedor da gerência de prestação de serviços ao cidadão.
- III. A estabilidade dos servidores somente se justifica se ela assegura, de um lado, a continuidade e a eficiência da Administração e, de outro, a legalidade e impessoalidade da gestão da coisa pública.

Assinale

- (A) se apenas as afirmativas I e II estiverem corretas.
- (B) se apenas as afirmativas I e III estiverem corretas.
- (C) se apenas as afirmativas II e III estiverem corretas.
- (D) se todas as afirmativas estiverem corretas.

CONHECIMENTOS ESPECÍFICOS

Questão 31

Cartilagem em forma de anel, cuja altura aumenta paulatinamente para a parte posterior. Trata-se da cartilagem

- (A) cricoide.
- (B) aritenoide.
- (C) tiroide.
- (D) epiglote.

Questão 32

Tem a função de manter o arejamento das cavidades da orelha média, o que é assegurado pela sua abertura intermitente.

Trata-se de

- (A) unidade tímpano-ossicular.
- (B) tuba auditiva.
- (C) cóclea.
- (D) membrana basilar.

Questão 33

É um exame que avalia a integridade da via auditiva desde o nervo auditivo até o tronco encefálico.

Trata-se de

- (A) audiometria.
- (B) impedanciometria.
- (C) PEATE.
- (D) emissões otoacústicas.

Questão 34

Em relação à prática fonoaudiológica na área de linguagem, analise as afirmativas a seguir:

- I. A prática fonoaudiológica na área da linguagem contempla a expertise com relação aos aspectos linguísticos implicados no processo de implementação de um sistema de Comunicação Suplementar e Alternativa, mas a atuação nesta área envolve questões tecnológicas de recurso, acessibilidade e portabilidade, abrangendo uma dimensão multidisciplinar.
- II. A população que necessita de CSA possui grande variedade de características, sejam com relação à faixa etária ou às características físicas, cognitivas e de linguagem. O público-alvo é vasto, desde crianças a idosos, abrangendo casos neurológicos, sindrômicos, dentre outras dificuldades de linguagem com demanda temporária ou permanente.
- III. Nos casos infantis, destaca-se a importância do acompanhamento precoce e da introdução do sistema de CSA com o processo maturacional e nível de complexidade do desenvolvimento da linguagem.

Assinale

- (A) se apenas as afirmativas I e II estiverem corretas.
- (B) se apenas as afirmativas I e III estiverem corretas.
- (C) se apenas as afirmativas II e III estiverem corretas.
- (D) se todas as afirmativas estiverem corretas.

Questão 35

Em relação ao tratamento fonoaudiológico em seqüela de queimadura de face e pescoço, analise as afirmativas a seguir:

- I. Para realizar as fonoterapias, é necessário um conhecimento da fisiopatologia da queimadura e das características dos processos de cicatrização, respeitar o tempo pós-cirúrgico, estar atento ao limiar de dor do paciente e não atuar em áreas cruentes.
- II. O trabalho fonoaudiológico encerra-se nos músculos, para que isso colabore nas seqüelas das queimaduras.
- III. A terapia fonoaudiológica mostra ao paciente, ainda no leito, que ele pode movimentar sua língua na cavidade interna bucal (vestíbulos), pois, apesar da dificuldade de movimentos faciais externos devida à retração tecidual, a língua continua hábil e deve proceder movimentos internos para facilitar as funções estomatognáticas.

Assinale

- (A) se apenas as afirmativas I e II estiverem corretas.
- (B) se apenas as afirmativas I e III estiverem corretas.
- (C) se apenas as afirmativas II e III estiverem corretas.
- (D) se todas as afirmativas estiverem corretas.

Questão 36

Com base no Código de Ética Profissional em Fonoaudiologia, em relação às redes sociais, é dever do fonoaudiólogo

- (A) expressar suas opiniões com respeito e fundamento em relação à profissão
- (B) dirigir-se a outros fonoaudiólogos de forma digna e respeitosa
- (C) discutir casos ou esclarecer dúvidas relativas à prestação de serviço ao cliente.
- (D) ter consentimento e autorização formal por escrito do cliente, ou de seu(s) representante(s) legal(is), para publicação de fotos ou vídeos

Questão 37

Em relação aos distúrbios miofuncionais orais, analise as afirmativas a seguir:

- I. As disfunções temporomandibulares (DTM) são atualmente compreendidas como um conjunto de sinais e sintomas que designam uma síndrome dolorosa musculoesquelética associada a alterações multissistêmicas, além de mudanças no comportamento, no estado emocional e nas interações sociais, reconhecidas como manifestações de uma desregulação do sistema nervoso central.
- II. Dentre os principais preditores para o desenvolvimento da DTM estão a presença de comorbidades, sintomas orofaciais não dolorosos, a frequência de sintomas somáticos, a pobre qualidade de sono, além de fatores genéticos e epigenéticos. Os sinais e sintomas mais comuns são dor na região orofacial, ruídos articulares e alterações na mobilidade mandibular.
- III. A presença de comorbidades associadas à DTM dolorosa dificulta o diagnóstico e o manuseio, em especial na presença de outras síndromes disfuncionais, como, por exemplo, cefaleias, fibromialgia e cervicalgias.

Assinale

- (A) se apenas as afirmativas I e II estiverem corretas.
- (B) se apenas as afirmativas I e III estiverem corretas.
- (C) se apenas as afirmativas II e III estiverem corretas.
- (D) se todas as afirmativas estiverem corretas.

Questão 38

Com base no Decreto 7.508/11, para ser instituída, a Região de Saúde deve conter, no mínimo, ações e serviços listados nas alternativas a seguir, à exceção de uma. Assinale-a.

- (A) urgência e emergência
- (B) financiamento da saúde
- (C) atenção psicossocial
- (D) atenção ambulatorial especializada e hospitalar

Questão 39

Em relação à Atenção Primária em Saúde, analise as afirmativas a seguir:

- I. No Brasil, a Atenção Primária é desenvolvida com o mais alto grau de descentralização e capilaridade, ocorrendo no local mais próximo da vida das pessoas.
- II. Há diversas estratégias governamentais relacionadas, sendo uma delas a Estratégia de Saúde da Família (ESF), que leva serviços multidisciplinares às comunidades por meio das Unidades de Saúde da Família (USF), por exemplo.
- III. Consultas, exames, vacinas, radiografias e outros procedimentos são disponibilizados aos usuários nas USF.

Assinale

- (A) se apenas as afirmativas I e II estiverem corretas.
- (B) se apenas as afirmativas I e III estiverem corretas.
- (C) se apenas as afirmativas II e III estiverem corretas.
- (D) se todas as afirmativas estiverem corretas.

Questão 40

Essencialmente constituído de campanhas de saúde, programas especiais e vigilâncias. Tem como principais exemplos de sua atividade: vacinação, controle de epidemias e erradicação de endemias.

Trata-se do modelo assistencial

- (A) sanitarista.
- (B) hegemônico.
- (C) médico-assistencial privatista.
- (D) atenção gerencial.

Realização
Instituto
ACCESS