



# MUNICÍPIO DE CATAGUASES

## CONCURSO PÚBLICO

### Edital 1/2023

## CADERNO DE PROVA (TARDE)

# MÉDICO UROLOGISTA

### LEIA ATENTAMENTE AS SEGUINTE INSTRUÇÕES:

1. Este caderno de prova contém **40 (quarenta) questões** objetivas, de 1 a 40 e distribuídas da seguinte forma:
  - 1 a 10 - Língua Portuguesa;
  - 11 a 20 - Raciocínio Lógico e Matemático;
  - 21 a 30 - Noções de Administração Pública;
  - 31 a 40 - Conhecimentos Específicos.
2. Confira se a quantidade e a ordem das questões deste caderno de prova estão de acordo com as instruções anteriores. Caso o caderno esteja incompleto, tenha defeito ou apresente qualquer divergência, comunique imediatamente ao fiscal de sala para que ele tome as providências cabíveis.
3. Para cada uma das questões objetivas, são apresentadas **4 (quatro)** opções de resposta. Apenas **1 (uma)** resposta responde corretamente à questão.
4. O tempo disponível para esta prova é de **3 (três) horas**.
5. Reserve tempo suficiente para marcar a sua folha de respostas.
6. Os rascunhos e as marcações assinaladas neste caderno **não** serão considerados na avaliação.
7. O candidato somente poderá se retirar do local da aplicação das provas após **60 (sessenta) minutos** de seu início.
8. Quando terminar, chame o fiscal de sala, entregue este caderno de prova e a folha de respostas.
9. O candidato somente poderá retirar-se do local da aplicação levando consigo o caderno de provas a partir dos últimos **30 (trinta) minutos** para o término da prova.
10. Boa prova!



## LÍNGUA PORTUGUESA



Leia atentamente o texto a seguir e responda às questões de 1 a 10.

### Populações negra e indígena têm menor acesso à rede de esgoto nos maiores municípios do país

Pessoas negras e indígenas são os grupos sociais que menos têm acesso ao saneamento básico no Brasil, segundo dados do Censo do IBGE (Instituto Brasileiro de Geografia e Estatística) divulgado nesta sexta-feira (23).

5 A pesquisa, realizada em 2022, levou em conta a proporção dos moradores em domicílios particulares permanentes com esgotamento sanitário por rede coletora, pluvial ou fossa séptica.

10 Nacionalmente, a maior proporção de atendimento por serviços públicos de saneamento ocorre para as pessoas amarelas, seguidas das brancas.

Considerando as 18 cidades mais populosas do país, pessoas brancas ou amarelas também são as que mais têm acesso a esse tipo de política pública.

15 O destaque negativo ocorre na cidade de Maceió. A capital alagoana registra os piores índices para quase todos os grupos sociais, exceto indígenas. No município, entre os amarelos, 40,4% das pessoas não têm acesso ao saneamento; entre os pretos, o número é de 35,9%; pardos são 34,9%; e brancos são 28%.

20 Já em relação aos indígenas, a cidade com os piores índices é Manaus. Na capital do Amazonas, 39,9% desse grupo não tem acesso ao saneamento.

25 Por outro lado, o melhor atendimento em saneamento básico, para todos os grupos sociais, ocorre na cidade de Curitiba. No município, 99,6% dos amarelos são atendidos pela política. Entre a população branca na capital paranaense, 98,9%; pretos 97,9%; pardos 97,7%; e indígenas 97,2%.

30 Dos 18 municípios analisados, em 17 deles as populações negra (que inclui pretos e pardos) e indígena são o grupo social com menos acesso às políticas de saneamento.

35 "Isso não é algo novo. O que está sendo colocado agora em números é, na verdade, o retrato de um processo histórico", afirma Victor de Jesus, um dos coordenadores do Núcleo Capixaba de Estudos da Experiência Humana em Meio Urbano.

40 Segundo ele, esse é um processo antigo. Desde o século 19, quando passou a ser desenvolvido o planejamento urbano das cidades brasileiras, a população negra não foi integrada aos espaços.

45 "Essa população não participa do processo decisório, não constrói políticas públicas e não é reconhecida como sujeito de direito. Com isso, o setor institui uma política capitalista, que vê saneamento como mercadoria e, portanto, só quem pode ter acesso é quem pode pagar, o que exclui mais uma vez."

50 Em 2022, o Brasil ainda registrava o equivalente a 49 milhões de habitantes sem atendimento adequado de esgoto e 4,8 milhões de pessoas sem água encanada, apesar do crescimento desses serviços nas últimas décadas.

55 No caso do esgotamento sanitário da população em geral, 62,5% da população vivia em domicílios conectados à rede de coleta em 2022. Outros 13,2% estavam em

endereços que usavam fossa séptica ou fossa-filtro como solução individual.

60 De acordo com o IBGE, as duas categorias são consideradas adequadas pelo Plansab (Plano Nacional de Saneamento Básico).

65 Assim, a população atendida por rede de esgoto ou fossa séptica chegou a 75,7%, na soma, em 2022 – o equivalente a 153,1 milhões de pessoas. O percentual subiu em relação aos recenseamentos anteriores – era de 64,5% em 2010 e de 59,2% em 2000.

(Tayguara Ribeiro.  
<https://www1.folha.uol.com.br/cotidiano/2024/02/populacoes-negra-e-indigena-tem-menor-acesso-a-rede-de-esgoto-nos-maiores-municipios-do-pais.shtml>. 23.fev.2024)

### Questão 1

Em relação às ideias do texto, analise as afirmativas a seguir:

- I. Os dados do censo são reveladores em relação a uma realidade não percebida diariamente.
- II. Os dados do saneamento no Brasil denotam melhora nas últimas décadas, mas ainda não traduzem igualdade e equivalência em todas as regiões do país.
- III. A questão histórica em relação à população negra a coloca em condição de ter dificuldade de ocupação dos espaços de formulação de políticas públicas.

Assinale

- (A) se apenas as afirmativas I e II estiverem corretas.
- (B) se apenas as afirmativas I e III estiverem corretas.
- (C) se apenas as afirmativas II e III estiverem corretas.
- (D) se todas as afirmativas estiverem corretas.

### Questão 2

*Pessoas negras e indígenas são os grupos sociais que menos têm acesso ao saneamento básico no Brasil, segundo dados do Censo do IBGE (Instituto Brasileiro de Geografia e Estatística) divulgado nesta sexta-feira (23).* (L.1-4)

O pronome sublinhado no período acima desempenha no texto papel

- (A) anafórico.
- (B) catafórico.
- (C) dêitico.
- (D) endofórico.

### Questão 3

O texto apresenta tipologia eminentemente

- (A) descritiva.
- (B) dissertativa.
- (C) narrativa.
- (D) argumentativa.

### Questão 4

*Dos 18 municípios analisados, em 17 deles as populações negra (que inclui pretos e pardos) e indígena são o grupo social com menos acesso às políticas de saneamento.* (L.30-33)

O segmento sublinhado no período acima aponta uma

- (A) enumeração.
- (B) explicitação.
- (C) exemplificação.
- (D) explicação.

### Questão 5

Com isso, o setor institui uma política capitalista, que vê saneamento como mercadoria e, portanto, só quem pode ter acesso é quem pode pagar, o que exclui mais uma vez. (L.45-48)

Assinale a alternativa com pontuação igualmente correta para o período acima.

- (A) Com isso, o setor institui uma política capitalista, que vê saneamento como mercadoria, e, portanto, só quem pode ter acesso é quem pode pagar, o que exclui mais uma vez.
- (B) Com isso, o setor institui uma política capitalista, que vê saneamento como mercadoria e, portanto, só quem pode ter acesso, é quem pode pagar, o que exclui mais uma vez.
- (C) Com isso, o setor institui uma política capitalista, que vê saneamento como mercadoria, e portanto, só quem pode ter acesso é quem pode pagar, o que exclui mais uma vez.
- (D) Com isso, o setor institui uma política capitalista, que vê saneamento, como mercadoria, e, portanto só quem pode ter acesso é quem pode pagar, o que exclui mais uma vez.

### Questão 6

No caso do esgotamento sanitário da população em geral, 62,5% da população vivia em domicílios conectados à rede de coleta em 2022. Outros 13,2% estavam em endereços que usavam fossa séptica ou fossa-filtro como solução individual. (L.53-57)

No período acima, as ocorrências de concordância verbal foram realizadas corretamente, embora seguindo parâmetros diferentes.

Em relação ao segmento sublinhado, assinale a alternativa em que a alteração tenha sido feita observando igualmente a norma culta.

- (A) 1,32% estavam em endereços...
- (B) 0,97% estavam em endereços...
- (C) 1,94% estava em endereços...
- (D) 11% estava em endereços...

### Questão 7

Assinale a alternativa em que a palavra indicada tenha sido acentuada seguindo regra distinta da das demais.

- (A) país (L.12)
- (B) também (L.13)
- (C) Maceió (L.15)
- (D) está (L.34)

### Questão 8

Assinale a alternativa em que a palavra desempenhe no texto papel adjetivo.

- (A) fossa (L.8)
- (B) mais (L.12)
- (C) amarelos (L.18)
- (D) duas (L.58)

### Questão 9

Desde o século 19, quando passou a ser desenvolvido o planejamento urbano das cidades brasileiras, a população negra não foi integrada aos espaços. (L.39-42)

O termo sublinhado no período acima exerce função sintática de

- (A) objeto direto.
- (B) sujeito.
- (C) complemento nominal.
- (D) adjunto adnominal.

### Questão 10

Considerando as 18 cidades mais populosas do país, pessoas brancas ou amarelas também são as que mais têm acesso a esse tipo de política pública. (L.12-14)

No período acima há

- (A) dois artigos e duas preposições.
- (B) dois artigos e três preposições.
- (C) três artigos e duas preposições.
- (D) três artigos e três preposições.

## RACIOCÍNIO LÓGICO E MATEMÁTICO

### Questão 11

Um candidato fez a inscrição para um concurso no dia 4 de março, que caiu numa segunda-feira. Sabe-se que o resultado desse concurso será publicado no dia 5 de junho. O resultado vai ser publicado em uma

- (A) segunda-feira.
- (B) terça-feira.
- (C) quarta-feira.
- (D) sexta-feira.

### Questão 12

A sequência numérica a seguir segue um padrão:

30, 33, 66, 69, 138, 141, ...

E correto concluir que a soma entre o oitavo e nono termo dessa sequência é igual a

- (A) 567.
- (B) 789.
- (C) 855.
- (D) 1143.

### Questão 13

Adriana, Bianca e Carla são funcionários de uma mesma empresa, que possui filiais em Sergipe, Minas Gerais e Rio de Janeiro, mas atuam em setores diferentes. Cada uma delas atua em uma filial em um estado também diferente. Uma atua no setor de vendas, outra no setor financeiro e a terceira no setor administrativo, não necessariamente nessa ordem. Sabe-se que:

Carla atua no setor administrativo;

Adriana não trabalha no setor financeiro nem atua na filial do Rio de Janeiro;

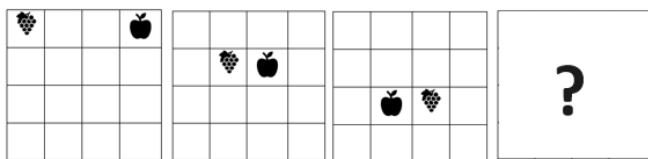
quem atua no setor financeiro está trabalhando em Sergipe.

Com base nessas informações, é correto afirmar que quem trabalha no Rio de Janeiro e quem trabalha com vendas são, respectivamente,

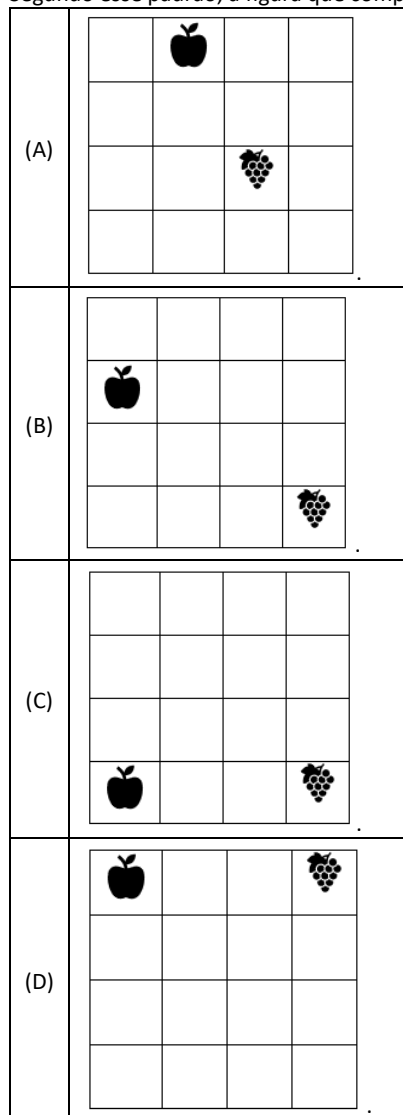
- (A) Bianca e Adriana.
- (B) Adriana e Carla.
- (C) Carla e Bianca.
- (D) Carla e Adriana

**Questão 14**

A seguir temos uma sequência de figuras que obedece a um determinado padrão.



Segundo esse padrão, a figura que completa a sequência é



**Questão 15**

Considere as seguintes afirmações como verdadeiras:

- Bruno é professor ou advogado.
- Se Bruno é advogado, então Ana gosta dele.
- Ana não gosta de Bruno.

Com base nessas afirmações, é correto concluir que

- (A) Bruno é professor.
- (B) Ana é advogada.
- (C) Bruno é advogado.
- (D) Ana não gosta de professores.

**Questão 16**

Uma empresa aumentou todos os seus produtos em 10% no mês passado. Neste mês vai precisar aumentar novamente em 10% cada um deles. Sabe-se que, após os dois aumentos, um dos seus produtos passou a custar R\$ 181,50. O valor desse produto, em reais, antes dos dois aumentos, era igual a

- (A) R\$ 140,00.
- (B) R\$ 150,00.
- (C) R\$ 155,00.
- (D) R\$ 165,00

**Questão 17**

O Senhor João deixou uma herança de R\$ 60 000,00 que deve ser dividida entre três filhos, Bruna, Carlos e Rodrigo, de forma proporcional às suas idades. Bruna tem 24 anos; Carlos, 30 anos; e Rodrigo, 18 anos.

A quantia, em reais, da herança destinada a Rodrigo é igual a

- (A) R\$ 11 250,00.
- (B) R\$ 15 000,00
- (C) R\$ 18 750,00
- (D) R\$ 20 000,00

**Questão 18**

Uma empresa fabrica 200 peças em 10 dias com 4 máquinas. Se eles adicionarem mais 2 máquinas, em quantos dias eles poderão fabricar 600 peças?

- (A) 20.
- (B) 16.
- (C) 15.
- (D) 12.

**Questão 19**

Em uma comemoração entre amigos em um restaurante, metade dos presentes bebeu refrigerante, um terço bebeu suco de fruta e 6 beberam água. Sabe-se que todos beberam e ninguém bebeu duas bebidas diferentes.

Com base nessas informações, é correto inferir que a quantidade de pessoas que estiveram na comemoração é igual a

- (A) 18.
- (B) 24.
- (C) 30.
- (D) 36.

**Questão 20**

Heitor ajuda sua mãe colocando brigadeiros e bolinhos em caixa. Sabe-se que uma caixa pode ser preenchida com 50 bolinhos ou com 400 brigadeiros. Se uma caixa já tem 32 bolinhos, quantos brigadeiros, no máximo, ela pode conter?

- (A) 72.
- (B) 96.
- (C) 120.
- (D) 144.

## NOÇÕES DE ADMINISTRAÇÃO PÚBLICA

### Questão 21

Quando a Administração transfere suas funções para outras pessoas jurídicas, ocorre

- (A) concentração.
- (B) desconcentração.
- (C) centralização.
- (D) descentralização.

### Questão 22

Há uma relação hierárquica entre os entes, de coordenação e subordinação. Isso ocorre na

- (A) concentração.
- (B) desconcentração.
- (C) centralização.
- (D) descentralização.

### Questão 23

Quando ocorre a transferência da própria titularidade do serviço da pessoa política para a pessoa administrativa, ocorre

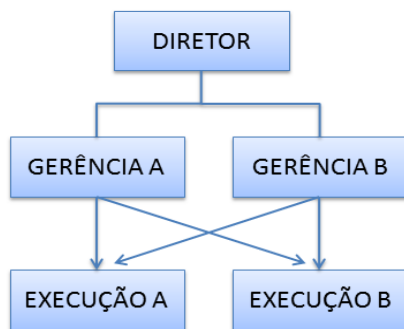
- (A) outorga, que é criada por lei.
- (B) outorga, que é concedida por ato administrativo.
- (C) delegação, que é concedida mediante previsão constitucional.
- (D) delegação, que é criada mediante autorização judicial.

### Questão 24

Não é órgão da Administração Direta

- (A) Câmara dos Deputados
- (B) Ministério da Saúde
- (C) Supremo Tribunal Federal
- (D) INSS

### Questão 25



A imagem acima representa uma estrutura

- (A) funcional.
- (B) linear.
- (C) linha-staff.
- (D) matricial.

### Questão 26

Nas alternativas a seguir estão listados direitos e deveres do cidadão, à exceção de uma. Assinale-a.

- (A) estabelecer seus limites de vizinhança
- (B) cumprir leis
- (C) prover sustento aos filhos
- (D) votar

### Questão 27

É uma estrutura muito utilizada por organizações de grande porte com produção que envolva grande concentração de diferentes recursos (produtos e pessoas) por um longo período. Há necessidade de tecnologia sofisticada, que não dependa de outras atividades para o seu desempenho. É o tipo de departamentalização orientado para resultados.

Trata-se de departamentalização

- (A) funcional.
- (B) por quantidade.
- (C) por projetos.
- (D) por cliente.

### Questão 28

A Gestão da Qualidade Total (GQT) possibilita a construção da reorientação gerencial das organizações. Tem como pontos básicos os elementos listados nas alternativas a seguir, à exceção de uma. Assinale-a.

- (A) foco no cliente
- (B) trabalho em equipe permeando toda a organização
- (C) decisões baseadas em intuições
- (D) busca constante da solução de problemas e da diminuição de erros

### Questão 29

Em relação à gestão da qualidade, analise as afirmativas a seguir:

- I. Gestão da Qualidade são conjuntos de ações dirigidas a fim de se obter características do produto ou serviço com capacidade de satisfazer plenamente as necessidades e expectativas do cliente/consumidor, atingindo o que se conhece como qualidade.
- II. Gestão da Qualidade são atividades coordenadas para dirigir e controlar uma organização com relação à qualidade.
- III. O conceito de Gestão da Qualidade interpreta a qualidade como associada a certas manifestações físicas mensuráveis no produto ou pelo menos detectáveis sensorialmente, todas elas capazes de atestar algum efeito benéfico.

Assinale

- (A) se apenas as afirmativas I e II estiverem corretas.
- (B) se apenas as afirmativas I e III estiverem corretas.
- (C) se apenas as afirmativas II e III estiverem corretas.
- (D) se todas as afirmativas estiverem corretas.

### Questão 30

A respeito do servidor público, analise as afirmativas a seguir:

- I. O servidor público, qualquer que seja sua formação ou função desempenhada, é um importante agente na construção social.
- II. Ao contrário das pessoas que desempenham cargos políticos, cargos de confiança ou que são servidores temporários, o servidor público permanece desempenhando sua função, anos e anos a fundo, tornando-se profundo conhecedor da gerência de prestação de serviços ao cidadão.
- III. A estabilidade dos servidores somente se justifica se ela assegura, de um lado, a continuidade e a eficiência da Administração e, de outro, a legalidade e impessoalidade da gestão da coisa pública.

Assinale

- (A) se apenas as afirmativas I e II estiverem corretas.
- (B) se apenas as afirmativas I e III estiverem corretas.
- (C) se apenas as afirmativas II e III estiverem corretas.
- (D) se todas as afirmativas estiverem corretas.

## CONHECIMENTOS ESPECÍFICOS

### Questão 31

A cirurgia urológica na mulher gestante está relacionada mais comumente à conduta da cólica renal e a cálculos do trato urinário. Dessa forma, é correto afirmar que

- (A) as gestantes criam um ambiente urinário único que é propenso à formação de cálculos.
- (B) a pielografia intravenosa é o estudo de imagem de primeira linha para pesquisar cálculos durante a gravidez.
- (C) a nefrocalcinose neonatal pode ser revertida pelo uso de diuréticos de alça cujo o uso não deve ser interrompido na gravidez.
- (D) a maior parte dos cálculos ureterais durante a gestação não é eliminada espontaneamente.

### Questão 32

Uma infecção de trato urinário complicada está associada a fatores que aumentam a probabilidade de adquirir bactérias e à diminuição da eficácia da terapia. São fatores que sugerem infecção complicada do trato urinário, exceto

- (A) anormalidade anatômica ou funcional do trato urinário.
- (B) paciente idoso.
- (C) infecção das vias urinárias na infância.
- (D) sexo feminino.

### Questão 33

A tuberculose (TB) pode afetar qualquer órgão ou sistema do corpo, incluindo o trato geniturinário (GU). Existem quatro meios pelos quais a TB GU se desenvolve. A principal rota é

- (A) ascendente ou retrógrada através do sistema urinário.
- (B) disseminação hematogênica.
- (C) inoculação direta.
- (D) autoinoculação de genitália externa por fezes ou urina infectadas.

### Questão 34

Uma doença ulcerativa genital cujas lesões são vesículas dolorosas, superficiais, geralmente múltiplas e adenopatia inguinal bilateral é altamente sugestiva de

- (A) sífilis primária.
- (B) cancroide.
- (C) linfogranuloma.
- (D) herpes genital.

### Questão 35

Aproximadamente 20% dos homens adultos no mundo sofrem de disfunção erétil (DE). O uso de medicação tem sido associado com a DE em até 25% das apresentações. Assinale a alternativa que não corresponde a um agente específico associado a disfunção erétil.

- (A) antagonistas do receptor de histamina h2 (cimetidina)
- (B) inibidores seletivos da recaptção da serotonina
- (C) heparinas de baixo peso molecular (HBPM)
- (D) morfina

### Questão 36

A rejeição de transplante de rim pode ser classificada pela ocorrência temporal da perda do enxerto. Assinale a alternativa que apresente característica da rejeição hiperaguda.

- (A) Anticorpos e complementos citotóxicos do receptor reagem aos antígenos endoteliais vasculares do doador.
- (B) Os achados típicos são infiltração monocelular dos túbulos e vasos.
- (C) As características histológicas de fibrose intersticial, esclerose arteriolar e atrofia tubular.
- (D) O sinal que se manifesta mais comumente é o aumento da creatinina sérica e diminuição do débito urinário.

### Questão 37

O sedimento urinário deve ser examinado para cristalúria, uma vez que tipos específicos de cristais podem fornecer dados sobre a composição dos cálculos que o paciente está formando. Considerando o aspecto microscópico dos cálculos urinários comuns, “envelopes” tetraédricos são observados na litíase por

- (A) bruxita.
- (B) estruvita.
- (C) oxalato de cálcio.
- (D) ácido úrico.

### Questão 38

Existem vários tumores benignos e malignos da bexiga.

Esse tipo de tumor consiste de área focal do urotélio alterado, com nuclearidade e arquitetura celular usuais, cercado por urotélio normal, geralmente localizado no trígono e composto de células escamosas ou glandulares. Trata-se

- (A) adenoma nefrogênico.
- (B) metaplasia epitelial.
- (C) carcinoma urotelial de baixo grau.
- (D) papiloma urotelial.

### Questão 39

A ressecção transuretral da próstata (RTUP) ofereceu uma opção entre a observação ativa e a prostatectomia aberta. A indicação mais comum para RTUP mudou consideravelmente nas últimas décadas. Uma indicação legítima do tratamento da próstata, uma vez que tenham sido excluídas outras causas, é

- (A) hematúria macroscópica recorrente.
- (B) papiloma urotelial.
- (C) prostatite aguda bacteriana.
- (D) divertículo vesical.

### Questão 40

À semelhança de outros aspectos da urologia, pode-se aprender muito sobre a condição de infertilidade masculina a partir de exames de sangue. A Globulina Ligadora de Hormônios Sexuais (SHBG) é alterada por uma variedade de condições e estados médicos. É uma condição associada com SBHG aumentada:

- (A) síndrome nefrótica.
- (B) obesidade.
- (C) diabetes melito.
- (D) Envelhecimento.

Realização  
Instituto  
**ACCESS**